

EXP TERPAINC

Thermodynamique

TD2 1^{er} principe

Exercice 1

- 1) Calculer le travail des forces de pression dans le cas
 - a) d'une transformation isochore
 - b) d'une transformation lente isobare lorsque le volume passe de V_1 à $V_2 = \frac{V_1}{2}$
- 2) Le système est un gaz parfait. Même question avec encore $V_2 = \frac{V_1}{2}$ dans le cas d'une transformation lente isotherme (à T), V passant de V_1 à V_2 .

Exercice 2

Un gaz parfait passe d'un état (P_1, V_1, T_1) à $(P_2 = 2P_1, T_2, V_2)$ suivant une transformation adiabatique réversible.

- 1) Exprimer T_2 en fonction de T_1
 V_2 en fonction de V_1
- 2) Exprimer W de manière la plus simple en fonction de T_1, γ, n , et R .

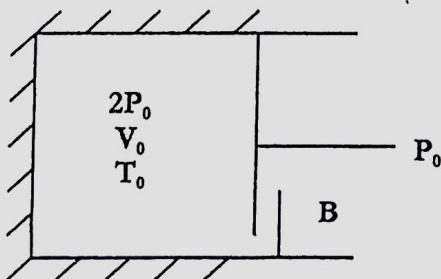
Exercice 3

Cas d'un gaz réel :

Une mole de gaz réel, d'équation d'état : $P(V-b) = RT$, est comprimée très lentement du volume $2V_0$, au volume V_0 , à la température constante T_0 . Exprimer le travail des forces de pression W .

Exercice 4

Soit un gaz (γ connu) contenu dans un cylindre horizontal isolé thermiquement. A l'état initial le gaz : $2P_0, V_0, T_0$, l'extérieur : $P_{ext} = P_0$. Le cylindre étant fermé par un piston, retenu par une butée B.



A $t = 0$ on enlève la butée. Le gaz se détend brusquement, le piston oscille puis se stabilise. Déterminer

- l'état final ($P_f; V_f; T_f$)
- la variation d'énergie ΔU (en fonction de n, R, T_0).

Exercice 5

Un gaz parfait est enfermé dans un cylindre à l'intérieur duquel peut coulisser un piston de masse négligeable.

La température $T_1 = T_{ext} = 293K$, le volume $V_1 = 5L$.

La pression $P_1 = P_{ext} = 1 \text{ atm} = 1,013 \text{ bar}$.

adiab

La paroi du cylindre est bonne conductrice de la chaleur. Ainsi à l'équilibre, la température du gaz est donc $T_{ext} = 293K$.

QS (et MR, allez hop)

- 1) En appuyant sur le piston, on augmente très lentement la pression jusqu'à $P_2 = 10 \text{ atm}$. Calculer $V_2, T_2, \Delta U, Q$.
- 2) On passe désormais brusquement de P_1 à P_2 . Calculer les mêmes grandeurs.

Exercice 6

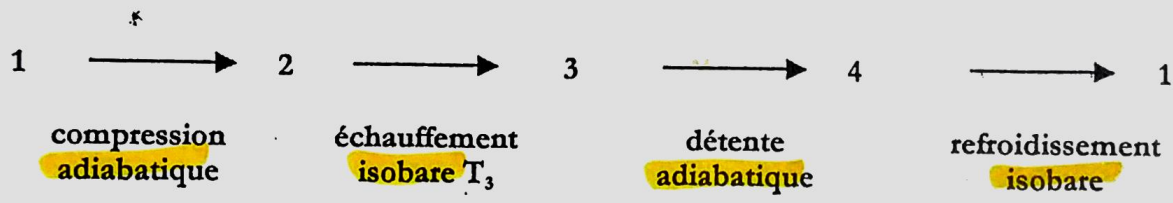
L'état initial d'une mole de gaz parfait est caractérisé par $P_0 = 2 \cdot 10^5 \text{ Pa}$, $V_0 = 14L$. On fait subir successivement à ce gaz :

$\gamma = 1,4$

- Une détente isobare qui double son volume.
 - Une compression isotherme qui le ramène à son volume initial.
 - Un refroidissement isochore qui le ramène à l'état initial (P_0, V_0).
- 1) A quelle température s'effectue la compression isotherme ? En déduire la pression maximale atteinte. Représenter le cycle de transformation dans le diagramme (P, V) (diagramme de Watt). Rq : $P = f(V)$
 - 2) Calculer les travaux et transferts thermiques échangés pour chaque transformation et pour le cycle.

Exercice 7

Une masse de gaz parfait (P_1, V_1) décrit le cycle suivant (réversible) dit cycle de Joule.



- 1) Représenter le cycle en diagramme de Clapeyron. *plutôt de Watt*
- 2) On pose $a = \frac{P_2}{P_1}$. Exprimer puis calculer T_2 (et T_4) en fonction de T_1 (et T_3)
A.N : $T_1 = 300K$; $T_3 = 900K$; $a = 16$; $\gamma = 1,4$.
- 3) Calculer pour n moles de gaz, les transferts thermiques Q (échauffement) et Q' (refroidissement) ainsi que le travail total échangé par le gaz au cours du cycle, en fonction de $T_1, T_3, \gamma, a, n, R$. Calculer le rendement $r = -\frac{W}{Q}$.

Exercice 8

Un récipient rigide, de volume V_0 , vide à l'état initial possède des parois adiabatiques. Il se trouve dans une atmosphère à P_0, T_0 . L'air extérieur (gaz parfait diatomique : $\gamma = \frac{7}{5}$) pénètre lentement dans le récipient par une valve adiabatique. A l'état final, le récipient contient de l'air à la pression P_0 et à la température T_f .

En raisonnant sur le système fermé constitué par les n moles d'air admises (occupant dans l'atmosphère un volume V_a) dans le récipient, déterminer le travail reçu par cet air puis par T_f .

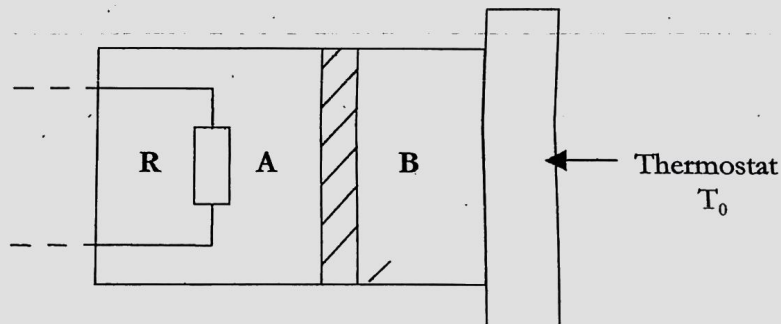
Exercice 10

Un cylindre fermé horizontal est divisé en deux compartiments A et B de même volume V_0 , par un piston coulissant librement sans frottement. A et B contiennent chacun une mole de gaz parfait (γ) à la pression P_0 et à la température T_0 .

Le piston, la surface latérale du cylindre et la surface de la base du compartiment A sont athermanes (=adiabatiques). $Q_S (+WR)$

La surface de base du compartiment B est diathermane. Le compartiment A est porté très lentement à une température T_1 à l'aide d'une résistance chauffante, le compartiment B restant à T_0 par contact thermique avec le thermostat de température T_0 . } diather

- 1) Déterminer V_A, V_B, P_f (en fonction de T_1, T_0, V_0) à l'équilibre du piston
- 2) Calculer ΔU pour le gaz contenu dans A
 ΔU pour le gaz contenu dans B
 ΔU pour le système (A+B) (résistance et piston exclus du système).
- 3) Quelle est la nature de la transformation subie par le gaz en B ?
 Quel est le travail échangé par B avec A ?
 Quel est le transfert thermique Q_1 (reçu par B) ?
 En fonction de T_1, T_0, R (cst. des GP).
- 4) Pour le système A, quel est le transfert thermique Q_2 fourni par la résistance chauffante en fonction de T_0, T_1, R et γ .



EXERCISE

1/1/a

$$W = \int -P_{\text{ext}} dV = 0$$

1/1/b

$$W = \int -P_{\text{ext}} dV$$

$$= -P \int dV$$

$$= -P \left(\frac{V_1}{2} - V_1 \right)$$

$$= \frac{PV_1}{2}$$

$$> 0$$

⇒ travail reçu

1/2

$$W = \int -P_{\text{ext}} dV = \int -P dV$$

$$= \int -nRT \frac{dV}{V}$$

$$= -nRT \left[\ln \right]_{V_1}^{V_1/2}$$

$$= -nRT \left(\ln \frac{V_1}{2} - \ln V_1 \right)$$

$$= -nRT \ln 2$$

$$> 0$$

⇒ travail reçu

2/1

On a GP, adiab, rev, donc d'après Laplace:

$$\begin{cases} PV^\gamma = \text{const} \\ TV^{\gamma-1} = \text{const} \\ P T^{1-\gamma} = \text{const} \end{cases}$$

$$P_2 = 2P_1$$

D'où

$$T_1^\gamma P_1^{1-\gamma} = T_2^\gamma P_2^{1-\gamma} = T_2^\gamma 2^\gamma P_1^{1-\gamma}$$

$$\Leftrightarrow T_2^\gamma = T_1^\gamma \left(\frac{P_1}{P_2}\right)^{1-\gamma}$$

$$= T_1^\gamma \left(\frac{1}{2}\right)^{1-\gamma}$$

car $P_2 = 2P_1$

$$= T_1^\gamma 2^{\gamma-1}$$

$$\Leftrightarrow T_2 = T_1 2^{\frac{\gamma-1}{\gamma}}$$

$$\left(= \sqrt[\gamma]{T_1^\gamma 2^{\gamma-1}} \right) \leftarrow \text{lol}$$

$$P_1 V_1^\gamma = P_2 V_2^\gamma \Rightarrow V_2^\gamma = V_1^\gamma \frac{P_1}{P_2}$$

$$= V_1^\gamma \frac{1}{2}$$

$$\Leftrightarrow V_2 = V_1 2^{-\frac{1}{\gamma}}$$

2/2 | Meth 1

$$\begin{aligned}W &= - \int P_{\text{ext}} dV \\&= \int -P dV \\&= - \int \frac{\text{const}}{V^\gamma} dV \\&\vdots \quad \leftarrow \text{change!}\end{aligned}$$

Meth 2

$$\begin{aligned}W &= \Delta U - Q \\&= C_V (T_2 - T_1) \\&= \frac{nR}{\gamma - 1} (T_2 - T_1) \\&= \frac{nR}{\gamma - 1} \left(2^{\frac{\gamma - 1}{\gamma}} - 1 \right)\end{aligned}$$

3 $\begin{cases} Q, S. \\ \dot{T} = 0 \end{cases}$ et on rajoute M.R.

\Rightarrow isotherme

$$\begin{aligned}W &= \int -P_{\text{ext}} dV \\&= \int -P dV \\&= \int_{2V_0}^{V_0} - \frac{RT}{V - b} dV\end{aligned}$$

$$= -RT \ln \frac{V_0 - b}{2V_0 - b} > 0$$

- 4
- y connu \Rightarrow GP
 - cylindre isolé thermiquement \Rightarrow adiabatique
 - brusque \Rightarrow irréversible



Pas de lois de Laplace!
(irréversible)

EI $2P_0 V_0 = nRT_0$

EF $P_f V_f = nRT_f$

$$P_f = P_{\text{ext}} = P_0$$

$$\Rightarrow P_0 V_f = nRT_f$$

d'après le premier principe:

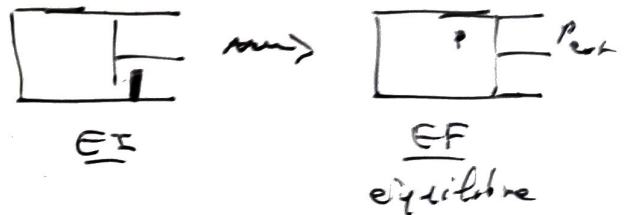
$$\Delta U = W + Q \quad \text{par adiabaticité}$$

$$\frac{nR}{\gamma - 1} (T_f - T_0) = \int -P_{\text{ext}} dV$$

$$= \int -P_0 dV$$

$$= -P_0 \int dV$$

$$= -P_0 (V_f - V_0)$$



remq c'est monobare

$$\begin{cases} \frac{nR}{\gamma-1} (T_f - T_0) = -P_0 (V_f - V_0) \\ P_0 V_f = nRT_f \end{cases}$$

$$\frac{nR(T_f - T_0)}{\gamma-1} = nRT_f + \frac{nRT_0}{2}$$

$$\Leftrightarrow T_f - T_0 = -(\gamma-1)T_f + (\gamma-1)\frac{T_0}{2}$$

$$\Leftrightarrow T_f(1+\gamma-1) = T_0\left(1 + \frac{\gamma-1}{2}\right)$$

$$\Leftrightarrow T_f = T_0 \frac{1+\gamma}{2\gamma}$$

$$\begin{aligned} \Rightarrow V_f &= \frac{nRT_f}{P_0} \\ &= \frac{nR}{P_0} T_0 \frac{1+\gamma}{2\gamma} \\ &= V_0 \frac{1+\gamma}{\gamma} \end{aligned}$$

$$\begin{aligned} \Delta U = W &= \frac{nR}{\gamma-1} (T_f - T_0) \\ &= \frac{nR}{\gamma-1} \left(T_0 \frac{1+\gamma}{2\gamma} - T_0 \right) \\ &= \frac{nRT_0}{\gamma-1} \left(\frac{1+\gamma}{2\gamma} - 1 \right) \\ &= -\frac{nRT_0}{2\gamma} \end{aligned}$$

5/1 Elle est lente, à température constante
donc elle est isotherme.

- $P_2 V_2 = P_1 V_1 =$
 $\Rightarrow V_2 = \frac{P_1}{P_2} V_1$
 $= 0,5 \text{ L}$

- $\Delta U = C_V \underbrace{(T_2 - T_1)}_0 = 0$
par isothermie

- $Q = \cancel{\Delta U} - W = \int P_{\text{ext}} dV$
 $= \int P dV$ par iso
 $= \int \frac{nRT}{V} dV$ car GP
 $= nRT_1 \ln \frac{V_2}{V_1}$ par isothermie
 $= P_1 V_1 \ln \frac{V_2}{V_1}$ car GP
 $= 1,013 \cdot 10^5 \cdot 5 \cdot 10^{-3} \cdot \ln \frac{0,5}{5}$
 $= -1170 \text{ J}$
 < 0


5/2 : la transformation n'est plus isotherme,
mais reste macrotherme.

$$T_2 = T_1 = T_{ext}$$

d'où V_2 ne change pas

d'où ΔU ne change pas

$$W = - \int -P_{ext} dV$$

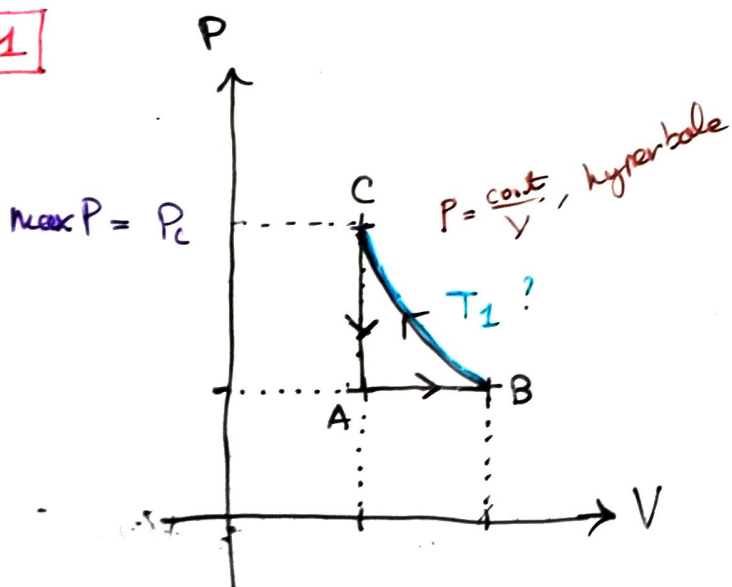
 $P_{ext} = P_2$, c'est la pression que l'on veut
appliquer brutalement

$$= \int P_2 dV$$

$$= P_2 (V_2 - V_1)$$

$$= -4,5 \text{ kJ}$$

6/1



$$P_0, V_0, T_0 \rightarrow P_0, 2V_0, T_1 \rightarrow T_1, V_0, P_C$$

$$\begin{cases} P_0 V_0 = nRT_0 \\ P_0 2V_0 = nRT_1 \\ P_c V_0 = nRT_1 \end{cases}$$

$$\Rightarrow \frac{nRT_1}{nRT_0} = \frac{P_0 2V_0}{P_0 V_0}$$

$$\Leftrightarrow T_1 = 2T_0$$

$$\begin{aligned} \text{et } P_c &= \frac{nR2T_0}{V_0} \\ &= 2P_0 \end{aligned}$$

A → B (isobare)

$$W = \int -P_{\text{ext}} dV = \int -P dV = \int -P_0 dV$$

$$= -P_0 (2V_0 - V_0)$$

$$= -P_0 V_0 = -28 \text{ kJ}$$

$$\Delta U_{A \rightarrow B} = \frac{nR}{\gamma - 1} (2T_0 - T_0) = \frac{nRT_0}{\gamma - 1}$$

Meth 1 $Q_{A \rightarrow B} = \Delta U_{A \rightarrow B} - W = \frac{nRT_0}{\gamma - 1} + P_0 V_0$

$$= \frac{P_0 V_0}{\gamma - 1} + P_0 V_0 \quad \text{car GP}$$

$$= \frac{8P_0 V_0}{\gamma - 1}$$

$$= \frac{8nRT_0}{\gamma - 1} \quad \text{car GP}$$

Meth 2

$$Q_{P_0} = \Delta H = C_p (T_f - T_i) = \frac{\gamma nR}{\gamma - 1} (2T_0 - T_0)$$

$$= \frac{\gamma nR}{\gamma - 1} T_0 = 9800 \text{ J}$$

tip quand isobare

$$\Delta H = Q_p$$

B → C (isotherme)

$$\begin{aligned} W &= \int -P_{\text{ext}} dV = \int -\frac{nRT_0}{V} dV = -2nRT_0 \ln \frac{V_0}{2V_0} \\ &= 2P_0V_0 \ln 2 \\ &= 3880 \text{ J} \end{aligned}$$

$$\begin{aligned} Q_{B \rightarrow C} &= \cancel{\Delta U} - W = -3380 \text{ J} \\ &\text{car } \Delta U = C_V(T_f - T_i) \\ &\quad 0 \text{ car isotherme} \end{aligned}$$

C → A (isochore).

$$W = 0$$

$$Q_{C \rightarrow A} = \Delta U_{C \rightarrow A} = C_V(2T_0 - T_0) = \frac{nRT_0}{\gamma - 1} = -\frac{P_0V_0}{\gamma - 1} = -7 \text{ kJ}$$

A → B → C → A (le cycle)

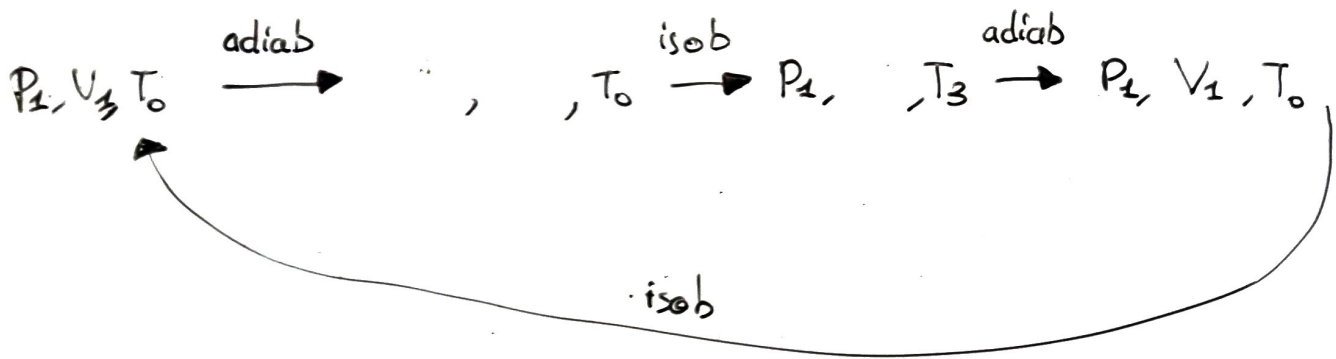
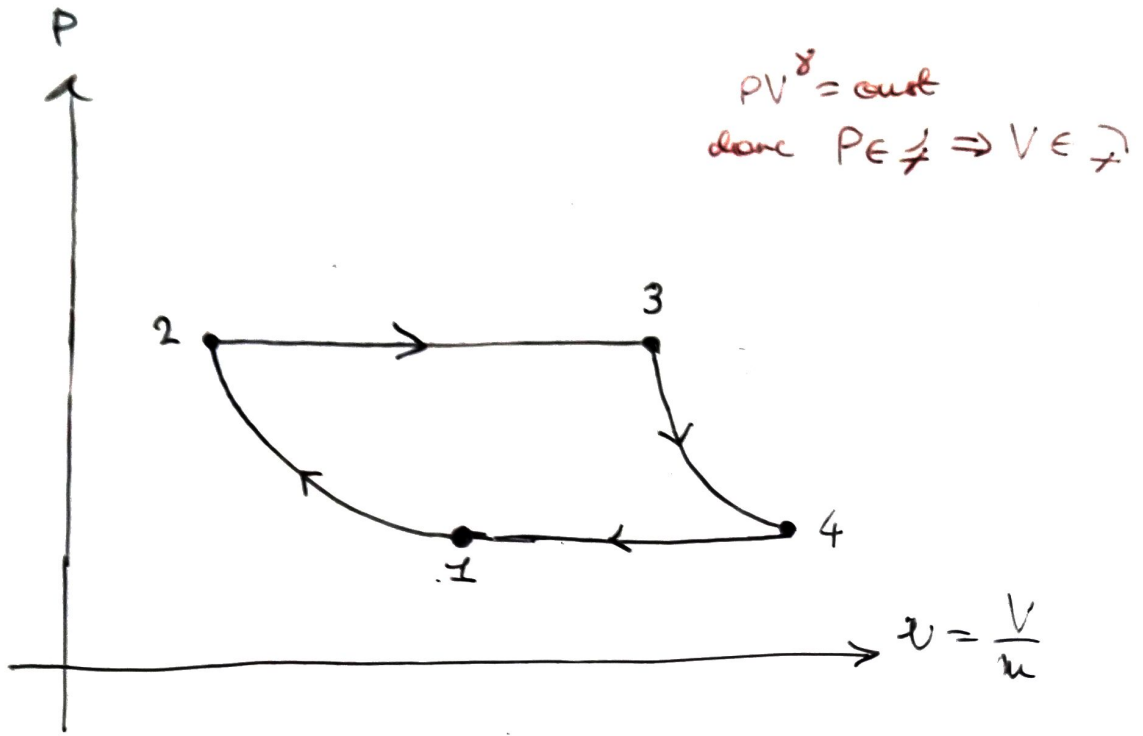
$$W_{\text{cycle}} = W_{A \rightarrow B} + W_{B \rightarrow C} + W_{C \rightarrow A} = 1080 \text{ J} \Rightarrow \text{cycle récepteur cohérent: sens trigo}$$

$$Q_{\text{cycle}} = Q_{A \rightarrow B} + Q_{B \rightarrow C} + Q_{C \rightarrow A} = -1080 \text{ J}$$

$$\Delta U_{\text{cycle}} = 0$$

U est une fonction d'état,
même état initial et même état final $\Rightarrow 0$

7/1



7/2

On a GP, adiab, réversible.

donc

$$\begin{cases} PV^\gamma = \text{const} \\ TV^{\gamma-1} = \text{const} \\ T^\gamma P^{1-\gamma} = \text{const} \end{cases}$$

$$T_1^\gamma P_1^{1-\gamma} = T_2^\gamma P_2^{1-\gamma} \Leftrightarrow T_2^\gamma = T_1^\gamma \left(\frac{P_1}{P_2} \right)^{1-\gamma}$$

$$\Leftrightarrow T_2 = \sqrt[\gamma]{T_1^\gamma a^{1-\gamma}}$$

$$= T_1 a^{\frac{1-\gamma}{\gamma}} = 136 \text{ K}$$

712

$$T_4^\gamma P_4^{1-\gamma} = T_3^\gamma P_3^{1-\gamma}$$

$$\Leftrightarrow T_4 = T_3 \left(\frac{P_3}{P_4} \right)^{\frac{1-\gamma}{\gamma}}$$

$$= T_3 a^{\frac{1-\gamma}{\gamma}}$$

$$= 408 \text{ K}$$

713

$$\begin{cases} Q =: Q_{2 \rightarrow 3} = \Delta H & \text{car à pression constante! } (Q_p) \\ Q' =: Q_{4 \rightarrow 1} = \Delta H & \text{de même} \end{cases}$$

$$\text{d'où } \begin{cases} Q_{2 \rightarrow 3} = C_p (T_3 - T_2) = \frac{nR\gamma}{\gamma-1} (T_3 - T_2) = +6,9 \text{ kJ} > 0 \text{ reçue} \\ Q_{4 \rightarrow 1} = C_p (T_4 - T_1) = \frac{nR\gamma}{\gamma-1} (T_4 - T_1) = -3,1 \text{ kJ} < 0 \text{ cédée} \end{cases}$$

$$r = - \frac{W_{\text{cycle}}}{Q_{2 \rightarrow 3}} = - \frac{\sum_{i \neq j} W_{i \rightarrow j}}{Q_{2 \rightarrow 3}} = - \frac{\Delta U_{\text{cycle}} - Q_{\text{cycle}}}{Q_{2 \rightarrow 3}}$$

$$= - \frac{- Q_{\text{cycle}}}{Q_{2 \rightarrow 3}}$$

$$= \frac{Q_{1 \rightarrow 2} + Q_{2 \rightarrow 3} + Q_{3 \rightarrow 4} + Q_{4 \rightarrow 1}}{Q_{2 \rightarrow 3}} \quad \text{car adiab}$$

$$= 1 + \frac{Q_{4 \rightarrow 1}}{Q_{2 \rightarrow 3}}$$

$$= 1 + \frac{Q'}{Q}$$

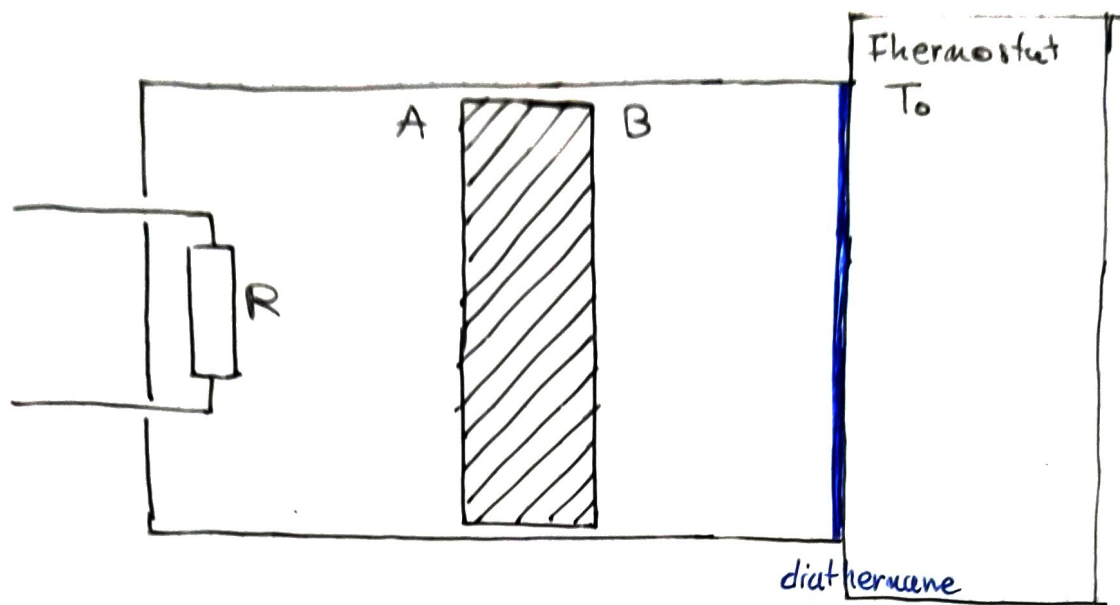
$$= 1 + \frac{\cancel{C_p}(T_1 - T_4)}{\cancel{C_p}(T_3 - T_2)}$$

$$= 1 + \frac{T_1 - T_4}{T_4 a^{\frac{\gamma-1}{\delta}} - T_1 a^{\frac{\gamma-1}{\delta}}}$$

$$= 1 + \frac{T_1 - T_4}{-a^{\frac{\gamma-1}{\delta}}(T_1 - T_4)}$$

$$= 1 - a^{\frac{1-\delta}{\delta}}$$

10



A

B

@EI P_0, V_0, T_0

P_0, V_0, T_0


@EF P_f, V_A, T_1

P_f, V_B, T_0

10/1

$$\begin{cases} P_0 V_0 = \overbrace{n}^{=1} R T_0 \\ P_f V_A = R T_1 \\ P_f V_B = R T_0 \end{cases}$$



C'est pas adiabatique! On apporte de la chaleur avec  !

On a $V_A + V_B = 2V_0$

$$\begin{cases} \frac{1}{2} \frac{V_A}{V_B} = \frac{T_1}{T_0} \\ V_A + V_B = 2V_0 \end{cases} \Rightarrow \begin{cases} V_B = \frac{2V_0 T_0}{T_0 + T_1} & (1) \\ V_A = \frac{2V_0 T_1}{T_0 + T_1} & (2) \end{cases}$$

$$(1) + (2) \Leftrightarrow P_f 2V_0 = R(T_0 + T_1)$$

$$\begin{aligned} \Leftrightarrow P_f &= \frac{R(T_0 + T_1)}{2V_0} \\ &= \frac{T_0 + T_1}{2T_0} P_0 \end{aligned}$$

1012

$$\Delta U_A = \frac{\overset{=1}{n} R}{\gamma - 1} (T_1 - T_0)$$

$$\Delta U_B = 0$$

$$\Delta U_{A+B} = \Delta U_A + \Delta U_B \quad \text{par extensivité de } \Delta U$$

1013

$$\begin{aligned} W_B &= \int -P_{\text{ext}} dV = \int_{V_0}^{V_B} -RT_0 \frac{dV}{V} \\ &= -RT_0 \ln\left(\frac{V_B}{V_0}\right) \\ &= -RT_0 \ln\left(\frac{V_0 T_0}{T_0 + T_1}\right) \end{aligned}$$

> 0

\Rightarrow gaz B comprimé

$$Q_1 = Q_B = \cancel{\Delta U_B} - W_B = RT_0 \ln \frac{V_0 T_0}{T_0 + T_1}$$

10/4

$$W_A = -W_B \iff B \text{ est poussé par } A$$

d'où

$$\begin{aligned} \Delta U_A = W_A + Q_2 &\iff Q_2 = \Delta U_A - W_A \\ &= \Delta U_A + W_B \\ &= \frac{R}{\gamma - 1} (T_1 - T_0) - RT_0 \ln \frac{V_0 T_0}{T_0 + T_1} \end{aligned}$$